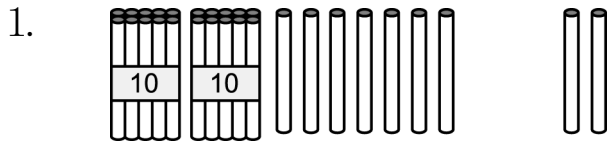
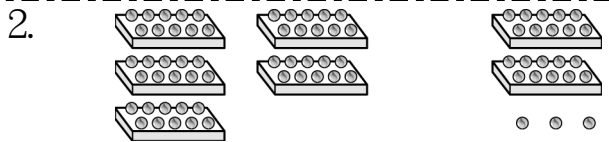


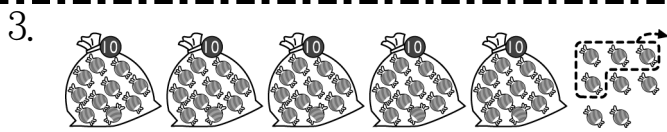
一、看圖填算式：共 12 分



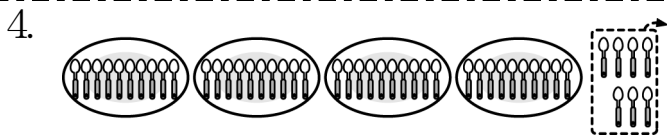
$27 + 2 = (\quad)$



$50 + 23 = (\quad)$



$58 - 4 = (\quad)$



$47 - 7 = (\quad)$

二、對的答案打 \checkmark ：共 2 分

1. 41-5 36 46 38+21 59 60

三、先算出橫式，再寫成直式：共 8 分

1. $9 + 23 = \square$

十位	個位
+	

2. $27 - 5 = \square$

十位	個位
-	

四、算算看看：共 24 分

- $32 + 20 = (\quad)$
- $51 + 15 = (\quad)$
- $11 + 4 = (\quad)$
- $23 + 6 = (\quad)$
- $53 - 32 = (\quad)$
- $99 - 91 = (\quad)$
- $57 - 25 = (\quad)$
- $89 - 70 = (\quad)$

五、把答案比較小的算式圈起來：共 8 分

- | | |
|-------------|--------------|
| 1. $30 + 4$ | 2. $20 + 40$ |
| $5 + 30$ | $30 + 40$ |
| 3. $23 - 6$ | 4. $63 - 3$ |
| $23 - 5$ | $36 - 3$ |

六、下面算式，答對的打 \checkmark ，錯的打 \times ：共 16 分

- | | |
|---|--|
| 1. <input type="checkbox"/> $67 - 6 = 7$ | 2. <input type="checkbox"/> $79 - 9 = 70$ |
| 3. <input type="checkbox"/> $38 + 3 = 31$ | 4. <input type="checkbox"/> $45 - 40 = 41$ |
| 5. <input type="checkbox"/> $18 + 5 = 23$ | 6. <input type="checkbox"/> $25 - 2 = 23$ |
| 7. <input type="checkbox"/> $3 + 38 = 41$ | 8. <input type="checkbox"/> $6 + 26 = 86$ |

七、連連看看：共 6 分

① $38 - 2$	• $\sphericalangle 30$
② $5 + 25$	• $\sphericalangle 32$
③ $3 + 29$	• $\square 36$

八、寫出算式做做看看：共 24 分

- 腳踏車出租店裡有 67 輛腳踏車，借走 7 輛後，還剩下幾輛腳踏車？
算式：() 輛
- 排隊等公車，小聿排在第 25 個，從小聿往後數 3 個是阿因，阿因排在第幾個？
算式：第 () 個
- 小愛有 24 張貼紙，小愛比妹妹多 13 張，妹妹有幾張貼紙？
算式：() 張
- 動物園裡有 3 隻公鯷魚和 27 隻母鯷魚，共有幾隻鯷魚？
算式：() 隻