



一、看圖填填看：共 12 分


1. 右邊的動物依一種類可以分成幾類？



2. 右邊的物體依一照形體來分，可以分成幾類？

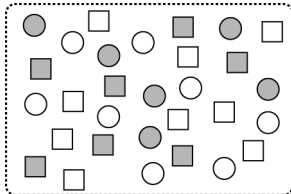


3. 右邊的圖案依一照圖案來分，可以分成幾類？

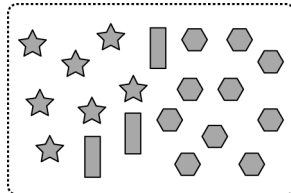


二、圖圖看看：共 28 分

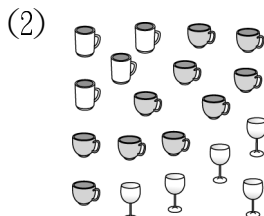

1. 右邊的圖形比較適合用什麼來分類？用什麼顏色，大小來分類？



2. 右邊的圖形比較適合用什麼來分類？用什麼形狀，顏色來分類？



3. 把種類一樣的物品圈在一起。



4.

種類				
用「正」畫記	正	正正	正下	丁

有 (10 隻 , 8 隻 , 5 隻)。

5. 一個○代表一朵。

花				
畫記	○○○○	○○○○	○○○○	○○○○

哪兩種花一樣多？



三、做做看看：共 60 分


1.

畫記	數量
正	
正下	
正	

2.

畫記	數量

3. 用「正」字畫記，完成統計表：



畫記			
數量			

4. 下表是餐廳收到學校的便當訂單，圈看看，填填看。

種類	雞腿飯	豬排飯	香腸飯	肉燥飯
畫記	正正 正	正正 正	正正 下	正正
數量				

- (1) 訂購數量最多的是 (雞腿飯 , 豬排飯 , 香腸飯 , 肉燥飯)。
- (2) 訂購數量最少的是 (雞腿飯 , 豬排飯 , 香腸飯 , 肉燥飯)。
- (3) 訂購數量最多和最少的相差 () 個。