

一、看月曆回答問題：每題  
 格 2 分，共 16 分

2017 民國 106 年 8 月	日	一	二	三	四	五	六
			1	2	3	4	5
	6	7	8	9	10	11	12
	13	14	15	16	17	18	19
	20	21	22	23	24	25	26
	27	28	29	30	31		

- 如果今天是 8 月 9 日，星期 ( )，那麼昨天是 8 月 ( ) 日，星期 ( )。
- 8 月有 ( ) 個星期日。
- 8 月的第 3 個星期五是 8 月 ( ) 日。
- 小麗每個星期二都要上鋼琴課，她 8 月一共要上 ( ) 次鋼琴課。
- 8 月的第一天是星期 ( )。
- 小貝的生日在 9 月 1 日，是星期 ( )。

二、先算出橫式，再寫成直式：每題 4 分，共 8 分

1.  $25 + 6 = \square$       2.  $78 - 35 = \square$





十位	個位
+	

十位	個位
-	

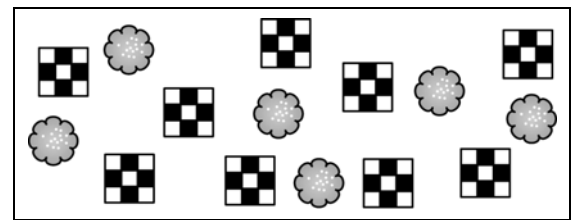
三、算算看看：每題 3 分，共 6 分

- $15 - 7 - 5 = ( )$
- $10 + 1 - 3 = ( )$

四、從 1~12 月，按照遇到到的節日順序，填上 1~4：每題 2 分，共 8 分

1.  兒童節 4月4日	2.  父親節 8月8日
3.  植樹節 3月12日	4.  聖誕節 12月25日

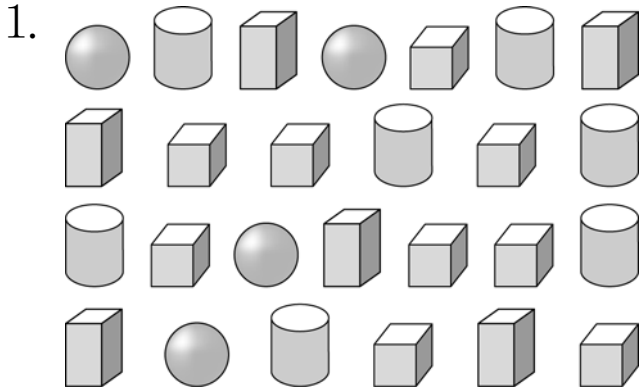
五、媽媽做了兩種餅乾要招待客人，寫出算式做看看：每題 4 分，共 8 分







- 媽媽做了 15 塊餅乾，有 9 塊 有幾塊 ？  
 算式：  
□ 塊
- 有 9 塊， 有 6 塊，全部有幾塊餅乾？  
 算式：  
□ 塊

六、看圖填表看：每格 2

分，共 22 分



(1) 完成統計表：

形體				
用「正」畫記				
數量 (個)				

(2) ( ) 體的數量最多。

(3) ( ) 體的數量最少。

(4) 數量最多和數量最少的相差 ( ) 個。

七、寫出算式做做看：每

題 4 分，共 32 分

1. 排隊買票，姐姐排在第 29 個，從姐姐往後數 6 個是小寶，小寶排第幾個？

算式：

第 ( ) 個

2. 原有 28 頂帽子，一人分一頂，分完後剩下 5 頂，帽子分給幾人？

算式：

( ) 人

3. 糖果罐裡有 46 顆糖果，再放進 43 顆後，糖果罐裡共有幾顆糖果？

算式：

( ) 顆

4. 妹妹有 26 元，姐姐比妹妹多 40 元，姐姐有幾元？

算式：

( ) 元

5. 操場上有一些小朋友，男生有 37 個，女生比男生少 15 個，操場上有幾個女生？

算式：

( ) 個

6. 小雯有 5 枝筆，小菲有 3 枝筆，小祖有 7 枝筆，三人共有幾枝筆？

算式：

( ) 枝

7. 桌上有 12 顆糖果，姐姐吃掉 5 顆，妹妹吃掉 2 顆，還剩下幾顆糖果？

算式：

( ) 顆

8. 草地上有 17 隻羊，黑羊有 8 隻，其他的是白羊，白羊有幾隻？

算式：

( ) 隻