



第 5 章 ~ 第 9 章

一 加 加 看 (每題 3 分, 共 12 分)

1.



32 + 24 = (56)

2.



30 + 30 = (60)

3.

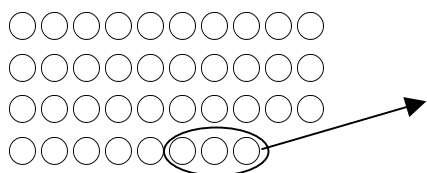


45 + 6 = (51)

4. 3 個 十 加 7 個 十 是 (10) 個 十。

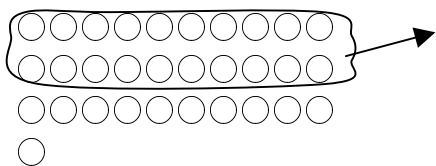
二 減 減 看 (每題 3 分, 共 12 分)

1.



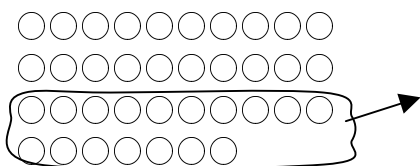
38 - 3 = (35)

2.



31 - 20 = (11)

3.



37 - 17 = (20)

4. 10 個 十 減 6 個 十 是 (4) 個 十。

三 先 算 出 橫 式, 再 完 成 直 式 (每題 4 分, 共 8 分)

1. 12 + 5 = (17)

十 位	個 位
1	2
+	5
1	7

2. 18 - 2 = (16)

十 位	個 位
1	8
-	2
1	6

四 看 圖 回 答 下 面 的 問 題 (每個答案 2 分, 共 12 分)

(每個答案 2 分, 共 12 分)

1. 甲 繩

乙 繩

(甲 繩, 乙 繩) 比 較 長, 多 了 (3) 個 迴 紋 針 長。

2.



(1) 甲 緞 帶 有 (8) 格 長。

(2) 乙 緞 帶 有 (6) 格 長。

(3) (甲 緞 帶, 乙 緞 帶) 比 較 長, 多 了 (2) 格 長。

五 算 算 看 (每題 2 分, 共 12 分)

1. 32 - 4 = (28) 2. 75 - 34 = (41)

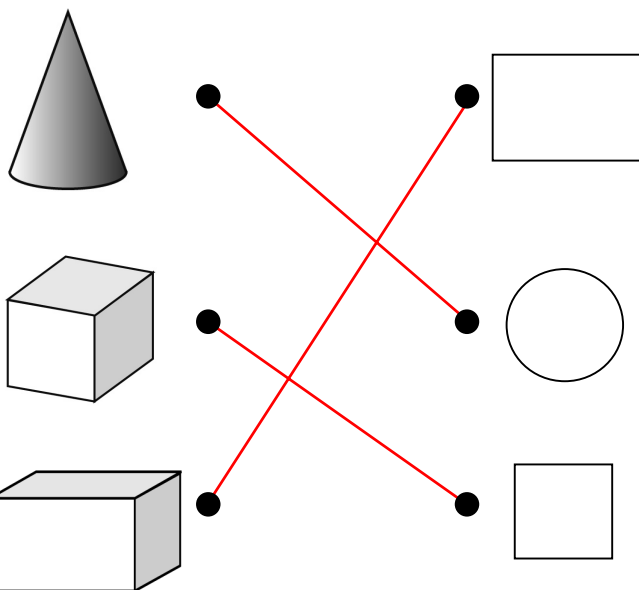
3. 53 + 15 = (68) 4. 45 + 7 = (52)

5. 16 - 8 - 6 = (2)

6. 17 - 9 + 7 = (15)

六 下 面 的 立 體 形 體 可 以 描 出 那 一 種 平 面 圖 形?

連 一 連 (每條線 4 分, 共 12 分)



七 看圖表回答問題。

(每題2分，共8分)

一年級甲班資源回收數量表			
物品	寶特瓶	鋁罐	廢電池
畫記	正正	正下	正一
數量	10	8	6

- (寶特瓶, 鋁罐, 廢電池)回收數量最多, 共有(10)個。
- (寶特瓶, 鋁罐, 廢電池)回收數量最少, 共有(6)個。
- 寶特瓶和鋁罐一共回收(18)個。
- 寶特瓶比廢電池多回收(4)個。

八 做做看看。(每題4分，共24分)

- 盒子裡原來有一些蠟筆, 再放進9枝後, 就有28枝蠟筆, 盒子裡原來有幾枝蠟筆?

算式: $28 - 9 = 19$

原來有(19)枝。

- 把39顆蘋果分給22位小朋友, 每人分1顆, 剩下多少顆?

算式: $39 - 22 = 17$

剩下(17)顆。

- 小明有45元, 買了一枝原子筆後, 還剩下20元, 一枝原子筆賣多少元?

算式: $45 - 20 = 25$

賣(25)元。

- 小華有50元, 他可以買幾張5元郵票?



買(10)張。

- 小玉排隊量身高, 她前面排了29個人, 小玉排在第幾個?

算式: $29 + 1 = 30$

第(30)個。

- 一個盒子裝了24枝筆, 弟弟又放12枝筆進去, 現在這個盒子裡有幾枝筆?

算式: $24 + 12 = 36$

有(36)枝筆。