



第 5 章 ~ 第 9 章

一 比較長的打√。(每題3分,共9分)

1. ()

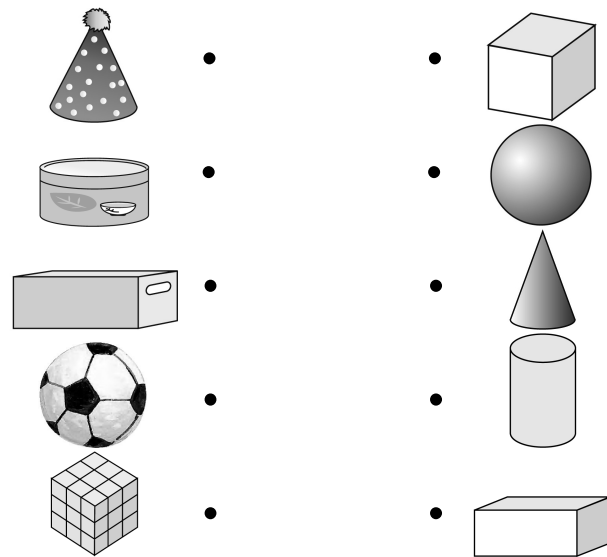
()

2. ()

()

3. ()

二 左邊這些物品和那一個立體積木比較像?連連看。(每條線2分,共10分)



三 依照下面的提示圈圈看。(每題3分,共6分)

提示:

- 小芬從座位到講臺要走12步。
- 小芬從座位到前門要走18步。
- 小芬從座位到垃圾桶的距離最遠。

- 小芬從座位到(講臺,前門)的距離比較近。
- 小芬從座位到垃圾桶的距離可能是(10, 16, 22)步。

四 填填看看。(每題3分,共15分)

1. 8個十加_____個十是10個十。

2. 4個十加_____個十是9個十。

3. 10個十減_____個十是7個十。

4. 9個十減_____個十是5個十。

5. 7個十減_____個十是7個十。

五 算算看看。(每題3分,共30分)

1. $29 + 3 = ()$
 $29 \xrightarrow{+1} ? \xrightarrow{+1} ? \xrightarrow{+1} ?$

2. $48 + 30 = ()$
 $48 \xrightarrow{+10} ? \xrightarrow{+10} ? \xrightarrow{+10} ?$

3. $31 - 4 = ()$
 $? \xrightarrow{-1} ? \xrightarrow{-1} ? \xrightarrow{-1} ? \xrightarrow{-1} 31$

4. $38 - 30 = ()$
 $? \xrightarrow{-10} ? \xrightarrow{-10} ? \xrightarrow{-10} 38$

5. $17 + 22 = ()$

6. $24 - 14 = ()$

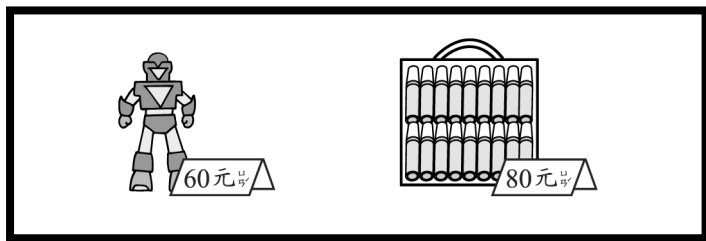
7. $37 + 7 = ()$

8. $68 - 8 = ()$

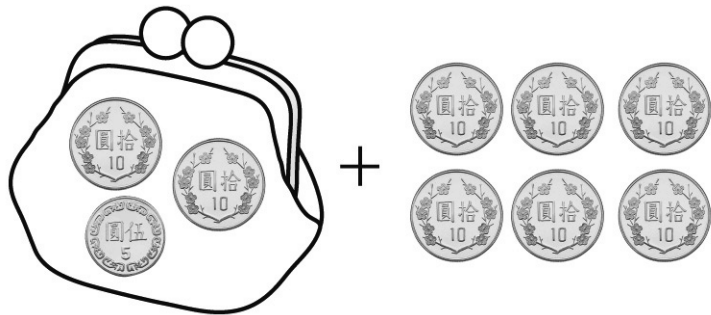
9. $19 - 6 - 9 = ()$

10. $7 + 9 - 8 = ()$

六 圈圈看。(每題3分,共6分)



1. 小華有25元,想買一個60元的機器人,最少還要幾個10元?



小華的錢包

2. 小明有1個50元、2個10元和1個5元,他的錢夠買一盒80元的彩色筆嗎?(夠,不夠)。



小明的錢包

七 下面的表格記錄了小朋友喜歡的運動項目,完成表格並圈圈看。

(每個答案2分,共8分)

項目	畫記	數量
跳繩	正 正	10
踢毽子	正 丁	
呼拉圈	正	

1. 那一種運動最多?
(跳繩, 踢毽子, 呼拉圈)
2. 那一種運動最少?
(跳繩, 踢毽子, 呼拉圈)

八 做做看。(每題4分,共16分)

1. 一個箱子可以放36瓶礦泉水,已經放了23瓶,再放幾瓶可以放滿?

算式:

再放()瓶。

2. 電梯從15樓往上走7樓,電梯停在那一樓?

算式:

停在()樓。

3. 班上12個男生和12個女生,每個人分一瓶果汁,需要幾瓶果汁?

算式:

需要()瓶。

4. 小鴨有36隻,大鴨比小鴨少15隻,大鴨有幾隻?

算式:

有()隻。