

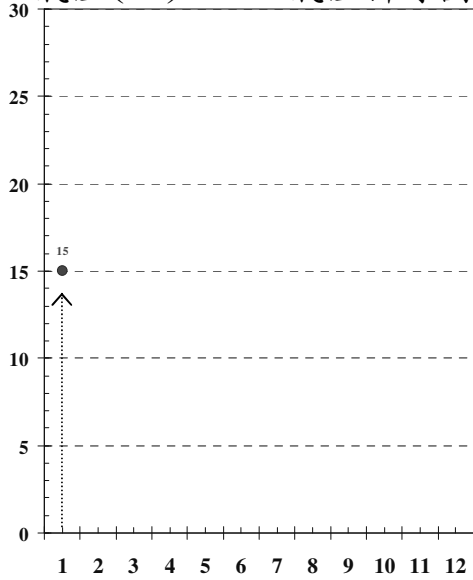
家鄉的氣候~新竹篇

班級：_____ 座號：_____ 姓名：_____

下列是新竹市氣溫和雨量月平均紀錄表，請利用統計圖表整理，展現數值變化情形！

月份	1	2	3	4	5	6	7	8	9	10	11	12
氣溫(°C)	15	15	18	22	24	27	29	28	27	24	21	18
雨量(mm)	60	190	170	160	240	260	100	190	90	50	30	40

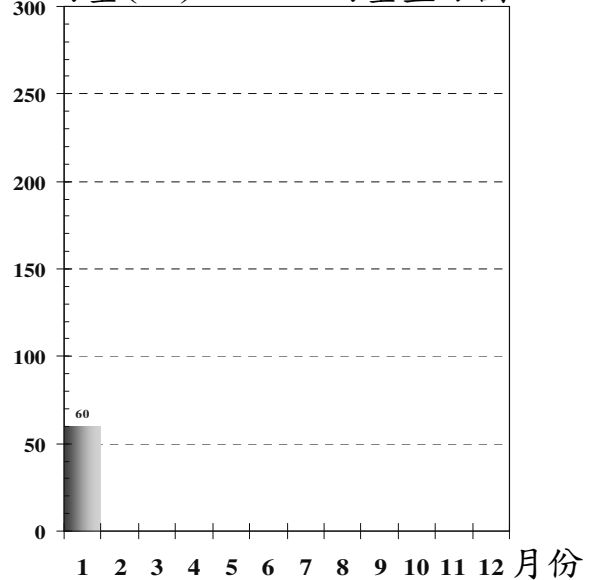
氣溫(°C) 氣溫折線圖



新竹氣溫和雨量月平均數值原始資料來源：中央氣象局，統計時間為1992~2000年。(為便於繪圖，表列屬簡化數值)



雨量(mm) 雨量直方圖



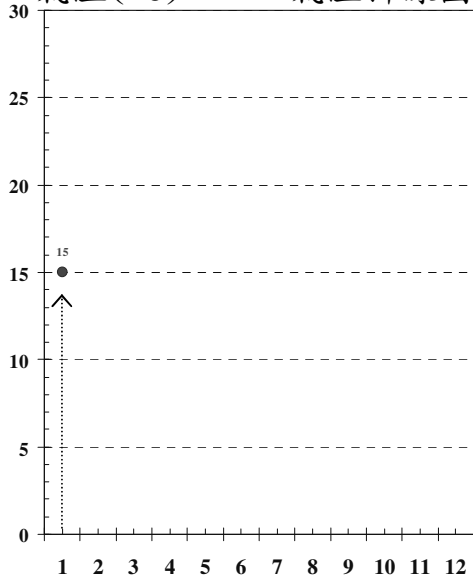
家鄉的氣候~新竹篇

班級：_____ 座號：_____ 姓名：_____

下列是新竹市氣溫和雨量月平均紀錄表，請利用統計圖表整理，展現數值變化情形！

月份	1	2	3	4	5	6	7	8	9	10	11	12
氣溫(°C)	15	15	18	22	24	27	29	28	27	24	21	18
雨量(mm)	60	190	170	160	240	260	100	190	90	50	30	40

氣溫(°C) 氣溫折線圖



新竹氣溫和雨量月平均數值原始資料來源：中央氣象局，統計時間為1992~2000年。(為便於繪圖，表列屬簡化數值)



雨量(mm) 雨量直方圖

