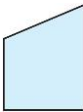

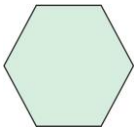


1. 完成下表，在對的空格中打√：

圖形			
邊一樣長			
角一樣大			
正多邊形			

2. 長方形是不是正多邊形？答：

3. 正方形是不是正多邊形？答：

4. 每個邊都一樣長的十邊形，就是正十邊形嗎？答：

5. 每個角都一樣大的八邊形，就是正八邊形嗎？答：

6. 七個角都一樣大，七個邊一樣長的七邊形，是不是正七邊形？答：

7. 五個角都一樣大，但五個邊不一樣長的五邊形，是不是正五邊形？答：

8. 五個邊等長且五個角都一樣大的圖形，叫作什麼？答：