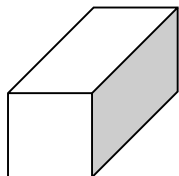


平面圖形與立體

一甲姓名：_____

◆ 填填看看

1.



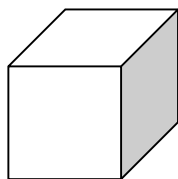
(1) 左圖的形體名稱叫做()體，有

()個正方形的面和()個長方

形的面。

(2) 它有()個頂點和()條邊。

2.



(1) 左圖的形體名稱叫做()體，它

有()條邊，每條邊都

(不一樣長，一樣長)。

(2) 它有()個面，每個面都是


()形。

3.

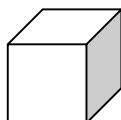
(1) 哪些形體是長方體？填代號。()

(2) 哪些形體是正方體？填代號。()

A



B



C

