



一、怎麼付錢才會剛好？用 50、10、

5 或 1 畫畫看看。

(每題 7 分，共 21 分)

1.  45 元

2.  98 元

3.  67 元

二、想一想，填填看看。

(每格 7 分，共 49 分)

1. 品華有 ，買東西花




了 9 元，還剩下 ( ) 元。

2. 婉如想買一個  20 元。

用 10 來付，要付 ( ) 個；

用 5 來付，要付 ( ) 個。

3. 從文想買一個  50 元。

用 50 來付，要付 ( ) 個；

用 10 來付，要付 ( ) 個；


用 5 來付，要付 ( ) 個；


用 1 來付，要付 ( ) 個。


三、怎麼付錢才會剛好？在對的裏 ( )

裡打  $\checkmark$ 。(每題 5 分，共 10 分)


1.  68 元









( )










( )


2.  82 元









( )







( )

四、畫畫看看，再回答問題。

(每題 10 分，共 20 分)


1. 永傑有 5 個 10，他想買一瓶



34 元

，最少要付幾個 10 才夠？

最少要付 ( ) 個 10 才夠。

2. 買一顆  34 元，付了 4 個 10，要

找回多少元？

找回 ( ) 元。