

座號：\_\_\_\_\_ 姓名：\_\_\_\_\_

一、選擇題：

( ) 1. 計算「 $821 \times 125 \div 821 \times 8$ 」的結果

會是下列何者？

- ①821 ②1000 ③125 ④4






( ) 2. 若  $\text{甲} \times 52 = 610$ ，求  $(\text{甲} + 2) \times$

52 的答案是多少？

- ①700 ②714 ③820 ④812

二、做做看：

1. 下面是五種水果的重量，回答下面問題：

 蘋果 $3\frac{3}{8}$ 公斤	 柳丁 $\frac{13}{16}$ 公斤
 葡萄 $\frac{15}{4}$ 公斤	 西瓜 $\frac{15}{2}$ 公斤
 香蕉 $5\frac{1}{12}$ 公斤	

①把五袋水果依重量由小到大順序排。

②使用天平，把蘋果和葡萄放在右邊，  
柳丁和香蕉放在左邊，哪一邊比較重？

筆試得分	組距	人數
	100	
	90-99	
態度分數	80-89	
	70-79	
	69 以下	
家長 簽名		

2.  $(53 + 47) \times 7$

$$= 53 \times \boxed{\phantom{00}} + 47 \times \boxed{\phantom{00}}$$

3.  $418 \times 8 - 8$

$$= (\boxed{\phantom{00}} - \boxed{\phantom{00}}) \times \boxed{\phantom{00}}$$

4.  $(64 + 66) \times 8$

$$= 64 \times \boxed{\phantom{00}} + 66 \times \boxed{\phantom{00}}$$

三、計算題：

1.  $252 \div 36 + 768 \div 96$

2.  $(48 \times 27 - 576) \div 24$

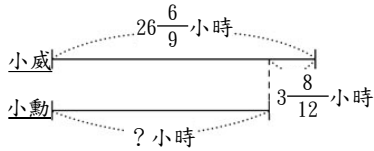
3.  $243 \times 88 - 23 \times 88$

4.  $1234 - 424 + 240 - 365$

四、應用題：

1. 耐力極限計時馬拉松比賽，小威跑了  $26\frac{6}{9}$

小時，小威比小勳多跑了  $3\frac{8}{12}$  小時，小勳跑了幾小時？



2. 將甲、乙、丙三個分數由大到小排列，

甲、乙兩數的差是  $\frac{8}{9}$ ，乙、丙兩數的差

是  $\frac{7}{12}$ ，甲、丙兩數的差是多少？

答：

3. 小麗買一枝 28 元的自動鉛筆、一個 12 元的橡皮擦、一瓶 31 元的飲料和一包 39 元的零食，共要幾元？

4. 話說三藏師徒一行人，在費盡千辛萬

苦打敗牛魔王與鐵扇公主，順利越

過火焰山之後，又繼續踏上取經之

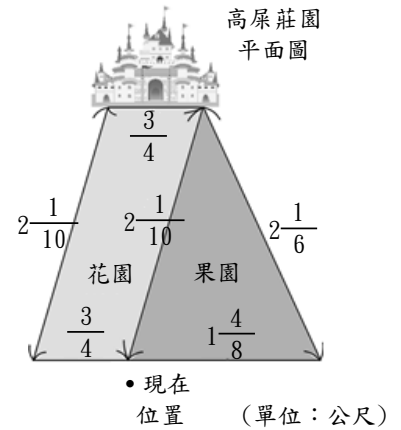
路，朝西天前進。這天，他們要挑戰山大王——高屎。

高屎家前方有著一大片的花園與果園，三藏師

徒正好站在

花園、果園

的交界處。



①沙悟淨向

右走繞過果園到高屎家，請問他要

走多遠才能抵達？

②孫悟空決定改從左方走。請問走

多遠才能抵達高屎的家？

③承前兩題，請問沙悟淨比孫悟空

多走了多少公尺？

答：