

0621 線上課程及 Google 表單及 0621~0623 作業解答

0621 生活 <https://drive.google.com/file/d/1Oa-PqWGnNAdkFt9vXE0ZRhZrAyzjVDOR/view?usp=sharing>

6/21 國數生 Google 表單

<https://forms.gle/j2h5AicdvdMfjSCRA>





解答



感受到「快樂」呢？（在 裡打✓，答案不只一個。）



全班回答



1 小小鼠覺得自己是村莊裡最快樂的老鼠，他是從哪些事情



閱讀階梯

小小鼠的快樂

課習
對照


課本



解答
 **3** 說一說，什麼事情會讓你感到快樂呢？
(自由作答。例如：和好朋友一起玩時，我會感到很快樂。)



- 4** 媽媽回家後，抱著媽媽撒嬌。
- 3** 躺在秋天的落葉中扭動身體。
- 2** 媽媽帶著好吃的食物回家。
- 1** 騎著腳踏車感受風的輕拂。

解答
 **2** 根據課文，小小鼠每天最期待的是哪些事呢？
(在 裡打✓，答案不只一個。)



進階挑戰題

解答 1 分一分，填一填：



- (1) 有 (5) 包。
 (2) 有 (8) 杯。
 (3) 有 (3) 個。
 (4) 有 (6) 枝。

解答 2 先畫○做做看，再把答案圈起來：

◎ 婷婷家的冰箱有 8 個 、5 罐 、9 瓶 、2 把 、6 個 和 1 瓶 。

	○○○○○○○○		○○
	○○○○○		○○○○○○
	○○○○○○○○○○		○

- (1) (, ,) 最多。
 (2) (, ,) 最少。

解答

3 下面是小均和小南投球的紀錄表，看表回答問題：

參賽者	畫記	進球數 (球)
小均	正正	9
小南	正正正	15







- (1) 小南比小均多投進 (6) 球。
- (2) 小均和小南共投進了 (24) 球。

解答

4 先完成表格，再回答下面問題：



動物種類				
畫記	正	正一	正正	下

- (1)  比  多 (2) 隻。
-  比  少 (4) 隻。
- (2) 哪一種動物最多？圈看。
- ( ,  ,  , )

放大 3 下面圖是上個月的气候紀錄表，看看表回答問題。

日	一	二	三	四	五	六
		1	2	3	4	5
6	7	8	9	10	11	12
13	14	15	16	17	18	19
20	21	22	23	24	25	26
27	28	29	30	31		

晴天 雨天 晴時多雲 陰天

放大 解答 (1) 依照上面圖的紀錄表，把結果記下來。

天氣				
天氣數 (天)	10	5	7	9

(2) 上個月的气候 (晴天)，雨天 () 比較多。

(3) 晴時多雲比陰天少 (2) 天。

放大 解答 4 數數看看，媽媽的錢包裡有幾元？



放大 解答 5 弘弘買了一塊 33 元的草莓鬆餅，怎麼付錢才會剛好？圈出三種不同的付錢方式。

