

0616 線上課程及 Google 表單及作業解答

0616 國語 L12 聽考

<https://drive.google.com/file/d/101zbQWm6HiD1SB-67FOPRonzXkyshPQ7/view?usp=sharing>



0616 國語 <https://drive.google.com/file/d/1HRODdhOIEw7Nep7iLDAB27Iy2M6akhhT/view?usp=sharing>

0616 生活 https://drive.google.com/file/d/1yO6pL51PStyhWYnVe1V_4hmcl7vKVv4j/view?usp=sharing

6/16 國數生 Google 表單

<https://forms.gle/5nGtdpdZm1QZTwS9A>



數練 P60~P61





題型三 報讀統計表 (1)

解題提示：可由同一種飲料的票選紀錄來得知票數。

【配合課本第 114、115 頁】

1 下面是小文班上票選最喜歡飲料的結果，每人各投 1 票，看表回答問題：

飲料種類	 紅茶	 果汁	 可樂	 咖啡	 牛奶
票選紀錄	○ ○ ○ ○ ○ ○ ○ ○	○ ○ ○ ○ ○ ○ ○ ○	○ ○ ○ ○ ○ ○ ○ ○ ○ ○	○ ○ ○ ○ ○ ○	○ ○ ○ ○ ○ ○ ○ ○ ○ ○
數量 (票)	6	6	9	3	5

- 哪一種飲料最受歡迎？ (可樂)
- 喜歡  的有幾個同學？ (6) 個同學
- 喜歡  的有幾個同學？ (3) 個同學
- 哪兩種飲料喜歡的人數不一樣多？ (紅茶) 和 (果汁)
- 最多人喜歡的飲料和最少人喜歡的飲料相差幾票？ (6) 票
-  和  相差幾票？ (3) 票
- 班上共有幾個同學參加投票？ (29) 個同學

題型四 報讀統計表 (2)

解題提示：一個「正」表示 5 個。

【配合課本第 114、115 頁】

1 下面是南南國小一年乙班票選可愛動物的紀錄表，看表回答問題：

動物	無尾熊	貓熊	小狼狗	小白兔
畫記	正正	正丁	丁	正丁
票數 (票)	10	7	3	9

- 哪一種動物最受歡迎？ (無尾熊)
- 小白兔的票數比貓熊多幾票？ (2) 票
- 貓熊和小狼狗的票數共有幾票？ (10) 票
- 一年乙班每人人都投 1 票，共有幾個同學參加投票？ (29) 個同學

2 阿甘、小定和大方比賽打棒球，每人打 10 球。下面是三人打球數的紀錄表，看表填填看：

名字	阿甘	小定	大方
畫記	正	正丁	正正
打球數 (個)	5	4	9

- 小定打中幾個球？ (4) 個
- 大方比阿甘多打中幾個球？ (4) 個