

❖❖ 國小特教班實用數學 ❖❖

學習作業單

單元：認識錢幣	姓名：	日期： / /
項目：1、5、10 元的點算	表現：	編號：

 算算看看，這是多少錢？

1、



()元

2、



()元

3、



()元

4、



()元

5、



()元

6



()元

7.



()

元

8.



()元

❖❖ 國小特教班實用數學 ❖❖









學習作業單

單元名稱：認識錢幣

姓名：

項目：數錢幣 1~100 No.4

請你算算看，有多少錢呢？把答案寫在後面方格中。

	_____元
	_____元
	_____元
	_____元
	_____元
	_____元
	_____元
	_____元