

# ❖❖ 國小特教班實用數學 ❖❖

## 學習作業單







單元：購買物品

姓名：

項目：消費高手--2

設計者：

星期天，漢芸全家去吃麥當勞，媽媽帶了 1000 元，共買了下列物品，請依照問題作答！




					
ㄅ 119 元	ㄆ 25 元	ㄇ 99 元	ㄊ 35 元	ㄋ 15 元	ㄌ 45 元




1. 漢芸可以買 50 元以內的物品，請問志明可以買




哪些東西？（請填上 ㄅ、ㄆ、ㄇ、ㄊ、ㄋ、ㄌ 的代號）

\* 漢芸可以買：\_\_\_\_\_、\_\_\_\_\_、\_\_\_\_\_、\_\_\_\_\_。

2. 下列問題請用計算機作答：

① 、 和  共多少錢？ \_\_\_\_\_ 元。

② 、 和  共多少錢？ \_\_\_\_\_ 元。

③ 、 和  共多少錢？ \_\_\_\_\_ 元。

④ 上面所有的物品共多少錢？ \_\_\_\_\_ 元。

⑤ 請問媽媽剩下多少元？ \_\_\_\_\_ 元。

# ❖❖ 國小特教班實用數學 ❖❖








## 學習作業單

單元：購買物品

姓名：

項目：數錢幣 50~100 No.10

請你算算看，有多少錢呢？把答案寫在後面方格中。

 <p>(對的打勾)</p>	<input type="checkbox"/> 1015 元 <input type="checkbox"/> 1115 元
	<input type="checkbox"/> 1208 元 <input type="checkbox"/> 1280 元
	<input type="checkbox"/> 1082 元 <input type="checkbox"/> 1028 元
	<p>_____ 元</p>
	<p>_____ 元</p>
	<p>_____ 元</p>
	<p>_____ 元</p>

