

❖❖ 國小特教班實用數學 ❖❖

學習作業單

單 元 號： 購 買 物 品 號

姓 名：

項 目： 消 費 高 手 --1

設 計 者：




星 期 天， 志 明 全 家 逛 家 樂 福， 爸 爸 帶 了 2000 元， 共 買 了 下 列 物 品， 請 依 照 問 題 作 答！




					
ㄅ 210 元	ㄆ 116 元	ㄇ 10 元	ㄊ 295 元	ㄋ 199 元	ㄌ 25 元




1. 志明可以買 200 元以內的物，請問志明可以買哪些東西？（請填上 ㄅ、ㄆ、ㄇ、ㄊ、ㄋ、ㄌ 的代號）

* 志明可以買： _____、_____、_____、_____。

2. 下列問題請用計算機作答：

① 、 和  共多少錢？ _____ 元。

② 、 和  共多少錢？ _____ 元。

③ 、 和  共多少錢？ _____ 元。

④ 上面所有的物共多少錢？ _____ 元。

⑤ 請問爸爸剩下多少元？ _____ 元。