



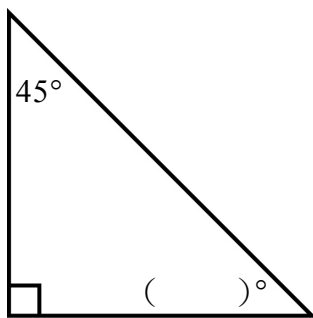
年 班 號 / 姓名：_____ 得分：_____

1. 選擇題：（每題 10 分，共 50 分）

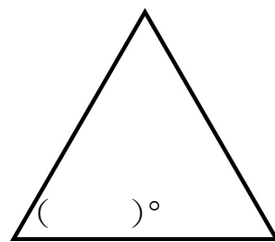
- () (1) 下列各組長度，哪一組不能圍成三角形？
① 5、6、7 ② 3、3、6 ③ 4、8、11
- () (2) 有兩個線段分別是 7 公分和 9 公分，可以再和下列哪個線段組成三角形？
① 2 公分 ② 16 公分 ③ 15 公分
- () (3) 將三角形的 3 個角撕下來，可以拼成一個
① 平角 ② 周角 ③ 直角
- () (4) 有關於三角形的敘述，何者錯誤？
① 用 3 條 15 公分的繩子，能排出正三角形。
② 任意三條線都可以組成三角形。
③ 三角形中，較短的兩邊長和，一定會大於第三邊。
- () (5) 三角形的內角度數總和是
① 360 度 ② 90 度 ③ 180 度

2. 在 () 中填入正確的度數：（每格 10 分，共 50 分）

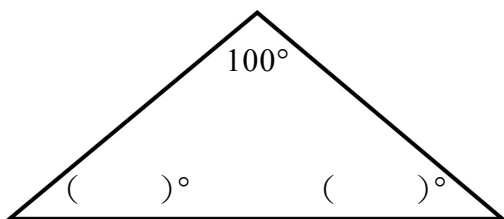
(1)



(2) 正三角形



(3) 等腰三角形



(4)

