





分數王國的生力軍


(配合第 1 單元)


 分數王國來了 7 位士兵，他們在出發之前各拿到了一張分數乘法卡，必須前往指定的軍營報到。小朋友，請你幫這 7 位士兵找到正確的報到地點吧！


甲  $\frac{1}{4} \times \frac{1}{5}$.


乙  $\frac{3}{7} \times \frac{14}{15}$.


丙  $14 \times \frac{2}{3}$.


丁  $7\frac{3}{7} \times 5\frac{1}{4}$.


戊  $2 \times 2\frac{5}{8}$.


己  $\frac{16}{9} \times \frac{27}{13}$.


庚  $6\frac{5}{6} \times \frac{3}{10} + 3\frac{1}{6} \times \frac{3}{10}$.


ㄅ  $9\frac{1}{3}$


ㄆ  $\frac{2}{5}$

ㄇ  $3\frac{9}{13}$

ㄏ  3

ㄏ  $\frac{1}{20}$

ㄏ  $5\frac{1}{4}$

ㄏ  39



年 班 號 姓名：

家長簽章：