


三角形的邊和角

(配合第4單元)


你能幫爸爸、媽媽和姐姐解決有關三角形的問題嗎？一起做做看吧！

1 爸爸要將一根 10 公尺長的竹竿鋸斷來圍成一塊三角形的地，可以有幾種鋸法？請將所有的答案寫下來。



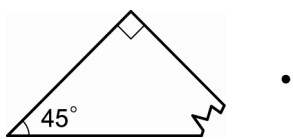
2 媽媽在倉庫中找到了一些長短不一的竹竿，也想用這些竹竿圍成三角形的地。請問哪幾組竹竿可以圍成三角形呢？請在 () 中打 \checkmark 。

- () ㄅ 2 公尺、3 公尺、5 公尺
- () ㄆ 3 公尺、7 公尺、6 公尺
- () ㄇ 1 公尺、6 公尺、7 公尺
- () ㄏ 3.5 公尺、4.5 公尺、5 公尺
- () ㄏ 4 公尺、4 公尺、6 公尺
- () ㄎ 2.6 公尺、5.7 公尺、4 公尺

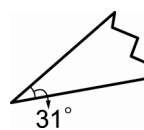


3 姐姐用色紙剪了幾個三角形，但都被調皮的妹妹撕下其中一角。你能找出每個三角形缺的部分嗎？

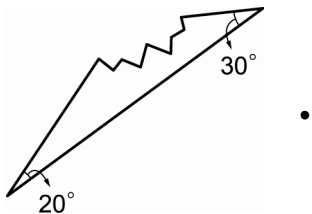
(1)



ㄅ



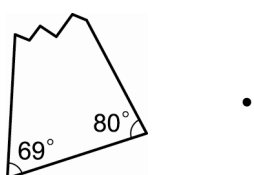
(2)



ㄆ



(3)



ㄇ



年 班 號 姓名：

家長簽章：