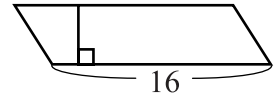


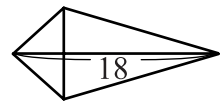
【配合課本章節】：4-3 解題

一、做做看。

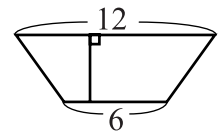
1. 右圖是一個平行四邊形，面積是 56 平方公尺，高是多少公尺？



2. 右圖是一個箏形，面積是 72 平方公尺，一條對角線是 18 公尺，另外一條對角線是多少公尺？

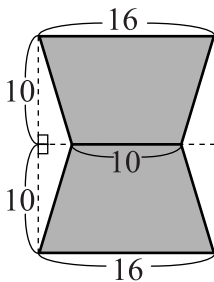


3. 右圖是一個梯形，面積是 36 平方公尺，高是多少公尺？



二、計算下列灰色區域的面積。(單位：公尺)

1.



2.

