

【配合課本章節】：1-3 三角形的面積(1)

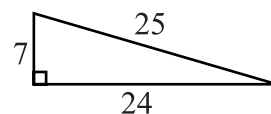
1-4 三角形的面積(2)

一、填填看。

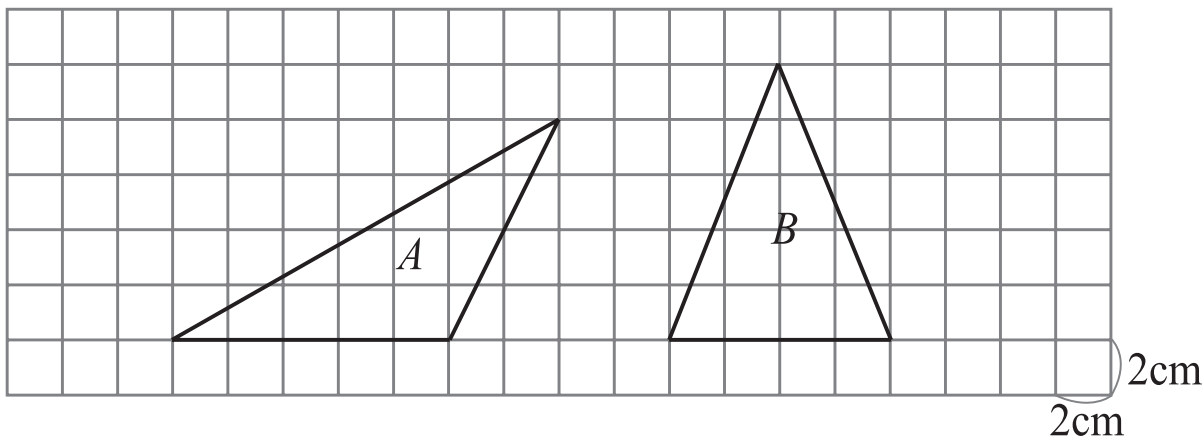
1. 右圖是一個直角三角形，回答下面的問題。

兩股長分別是_____公分、_____公分，

斜邊長是_____公分，三角形面積是_____平方公分。



2.



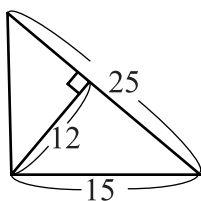
(1) A 三角形的底邊是_____公分，高是_____公分，
面積是_____平方公分。

(2) B 三角形的底邊是_____公分，高是_____公分，
面積是_____平方公分。

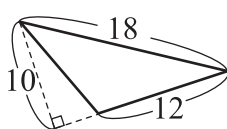
(3) 那一個三角形的面積比較大？_____

二、計算下列圖形的面積。(單位：公分)

1.



2.



3.

