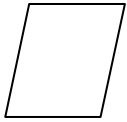


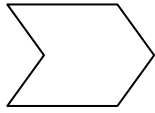
一、用鉛筆描出下面圖形的周界。

(每題4分，共8分)

1.

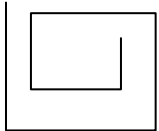
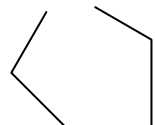
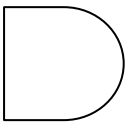


2.




二、哪些圖形有周界? 在□裡打√。

(每個答案4分，共8分)



三、看圖回答問題。(每小題5分，共30分)

1.




(1) 在周界上的沙包有( )個。

(2) 在圈外的沙包有( )個。

(3) 在圈內的沙包有( )個。

2.



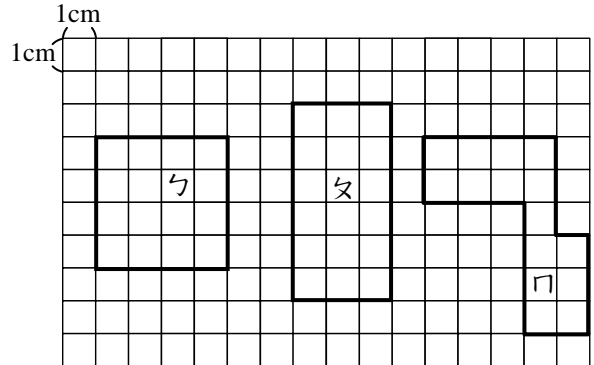
(1) 在長方形周界上的★有( )個。

(2) 在長方形內部的★有( )個。

(3) 在長方形外部的★有( )個。

四、下面圖形的周長各是幾公分?

(每題8分，共24分)



1. ㄅ：( )公分

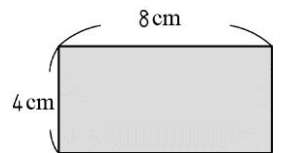
2. ㄆ：( )公分

3. ㄇ：( )公分

五、把做法和答案記下來。

(每題10分，共30分)

1. 下面長方形的周長是幾公分?



2. 下面圖形是用每根10公分長的木棍圍起來的，周長是幾公分?



3. 下面正方形的周長是幾公分?

