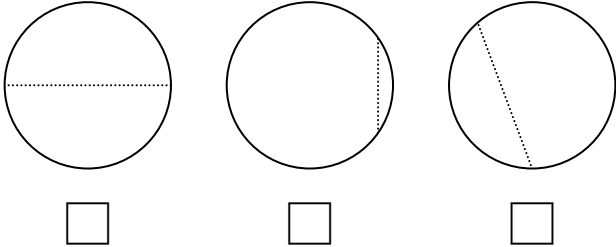
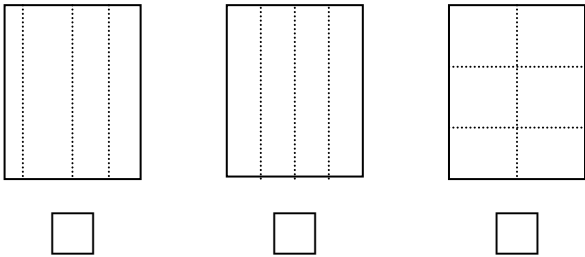


一、在對的方格裡打√。(每題3分，共6分)

1. 平 $\frac{1}{2}$ 分成是2份。



2. 平 $\frac{1}{2}$ 分成是4份。



二、圈出一個，填寫看看。

(每個答案4分，共24分)

1. $\frac{1}{10}$ 讀作(一分之十，十分之一)。

2. 「八分之十一」記成($\frac{1}{8}$, $\frac{8}{1}$)。

3. 一條壽司平分成6塊，1塊是()條壽司。

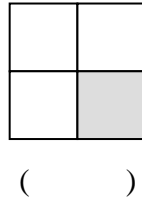
4. 媽媽買了一個蔥油餅，把它平分成12片，1片是()個蔥油餅。

5. 一個起司蛋糕平分成8塊，爸爸吃了其中1塊，是吃了()個起司蛋糕，媽媽也吃了1塊，是吃了()個起司蛋糕。

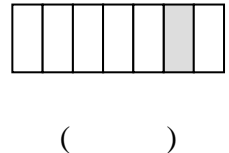
三、塗色各部分是全部分的多少？

(每題6分，共24分)

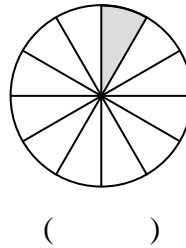
1.



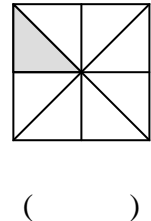
2.



3.

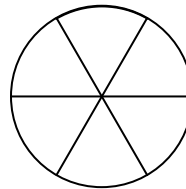


4.




四、塗色看看。(每題5分，共10分)

1. $\frac{1}{6}$ 個披薩




2. $\frac{1}{3}$ 條緞帶




五、塗色各部分是全部分的多少？填寫一個，再比比看看。(每格6分，共36分)




這是 1



()



()



()

把分數由大到小寫下來：

() > () > ()